



# سرزدانش

۱- خارج قسمت و باقی مانده تقسیم زیر کدام است ؟

$$\begin{array}{r} 54 \quad | \quad 7 \\ \hline \end{array}$$

( الف ) خارج قسمت ( ۷ ) - باقی مانده ( ۵ )

( ب ) خارج قسمت ( ۷ ) - باقی مانده ( ۶ )

( ج ) خارج قسمت ( ۸ ) - باقی مانده ( ۵ )

( د ) خارج قسمت ( ۸ ) - باقی مانده ( ۶ )

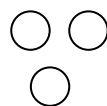
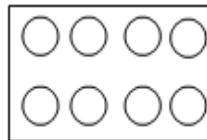
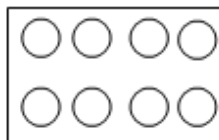
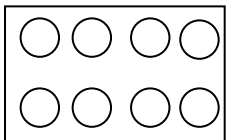
۲- باقی مانده کدام تقسیم ۶ می باشد ؟

$$\begin{array}{r} 78 \quad | \quad 8 \text{ (د)} \\ \hline \end{array}$$

$$\begin{array}{r} 75 \quad | \quad 8 \text{ (ج)} \\ \hline \end{array}$$

$$\begin{array}{r} 75 \quad | \quad 9 \text{ (ب)} \\ \hline \end{array}$$

$$\begin{array}{r} 72 \quad | \quad 8 \text{ (الف)} \\ \hline \end{array}$$



۳- شکل روبرو مربوط به کدام تقسیم است ؟

$$\begin{array}{r} 28 \quad | \quad 4 \text{ (ب)} \\ \hline \end{array}$$

$$\begin{array}{r} 27 \quad | \quad 3 \text{ (الف)} \\ \hline \end{array}$$

$$\begin{array}{r} 29 \quad | \quad 8 \text{ (د)} \\ \hline \end{array}$$

$$\begin{array}{r} 28 \quad | \quad 3 \text{ (ج)} \\ \hline \end{array}$$

۴- عدد دوم تقسیمی ۹ و خارج قسمت آن ۸ و باقی مانده آن ۲ می باشد . عدد اول تقسیم چند است ؟

$$72 \text{ (د)}$$

$$75 \text{ (ج)}$$

$$74 \text{ (ب)}$$

$$73 \text{ (الف)}$$

۵- جهت های اصلی کدامند ؟

( ب ) شمال - جنوب - مشرق - جنوب غربی

( الف ) شمال - شمال شرق - مغرب - جنوب

( د ) شمال - شمالغرب - جنوب - جنوب شرق

( ج ) شمال - جنوب - مشرق - مغرب

۶- امام جعفر صادق ( ع ) چندمین امام ما شیعیان است و در کجا زندگی می کند ؟

( ب ) پنجمین - مدینه

( الف ) ششمین - مدینه

( د ) چهارمین - مکه

( ج ) هفتمین - مکه

۷- کدام دسته از کارهای زیر نشانه های مومنان است ؟

( الف ) راستگویی - علم آموزی - امانت داری

( ب ) راستگویی - امانت داری - وفای به عهد

( ج ) دیدار خویشاوندان - تحقیق - مهربانی

( د ) مهربانی - دانایی - آگاهی